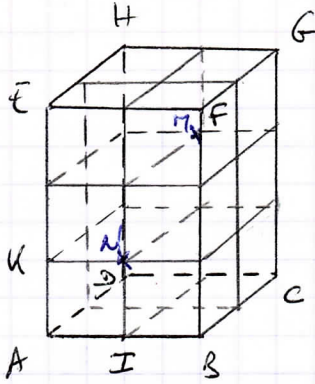


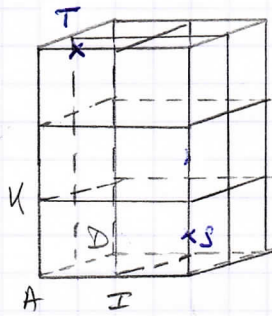
### Exercice 26




$(A; B; D; E)$

$\Pi$ : deux plans parallèles à  $ABCD$   
et sur le plan  $DCGH$ .

$N$ : face de devant, au tiers de la  
hauteur.



$(A; I; D; u)$

Exercice 38  Attention, dans les énoncés du Transmath, les coordonnées latitude, longitude sont inversées.  
 $(60^\circ N; 40^\circ O)$

### Exercice 39

Il se trouve à proximité du Golfe de Guinée (Équateur)

### Exercice 40

dans le continent des Andes